

Математика 3 сынып
II-тоқсан «Үлес», «Аудан. Шамалар» бөлімдері бойынша жиынтық бағалау
БЖБ №1 II нұсқа

Мерзімі: _____ **Білім алушы аты – жөні:**.....

Оқу мақсаты: 3.5.1.3 Санның және шаманың үлесін табуға берілген есептерді талдау және шығару; кері есеп құрастыру және шығару

3.3.1.3 Тікбұрышты үшбұрыш, шаршы, тіктөртбұрыш ауданы формуласын: $S=(a \cdot b):2$, $S=a^2$, $S=a \cdot b$ шығарып алу және қолдану

3.1.2.8 Үш таңбалы сандарды жазбаша қосу және азайту алгоритмдерін қолдану

Бағалау критерийі *Білім алушы*

Санның және шаманың үлесін табуға берілген есептерді бөлшек түрінде жазады, салыстырады

Санның және шаманың үлесін табуға берілген есептерді бөлшек түрінде есептейді

Тіктөртбұрыштың ауданы формуласын: $S=a \cdot b$ біледі, қолданады

Үш таңбалы сандарды жазбаша қосу және азайту алгоритмдерін орындайды, салыстырады

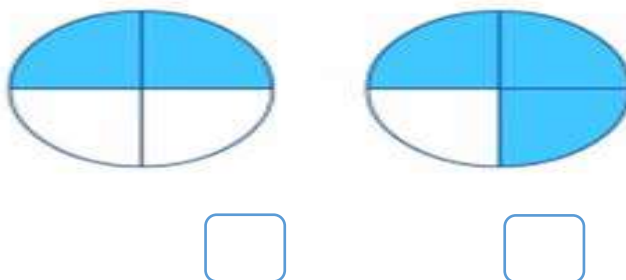
Ойлау дағдыларының деңгейі: Қолдану. Білу және түсіну

Орындау уақыты: 20 минут

Балл саны: 8

1-тапсырма

Әр дөңгелектің қанша бөлігі боялған? Бөлшек түрінде жаз және салыстыр. (2)

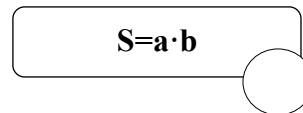
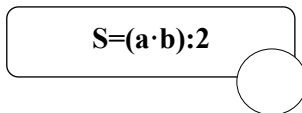
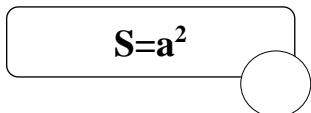


2-тапсырма. Есептеп тап. (2)

24 санының $\frac{1}{4}$ бөлігі:.....

$\frac{1}{3}$ бөлігі 8 см болатын сан:.....

3-тапсырма. Тіктөртбұрыштың ауданын табу формуласын белгіле (✓). (3)



4-тапсырма.

Өрнектердің мәнін тап, салыстыр (5)

1) $175+175 * 175+177$

2) $819-600 * 728+60$

3) $1000-450 * 250+270$

4) $170+175 * 170+177$

5) $280+175 * 190+170$

Бағалау критеріі	Тапсырма №	Дескриптор	Балл
		Білім алушы	
Санның және шаманың үлесін табуға берілген есептерді бөлшек түрінде жазады, салыстырады	1	Бөлшек түрінде жазады	1
		Бөлшектерді салыстырады	1
Санның және шаманың үлесін табуға берілген есептерді, жазады есептейді	2	Санның бөлігін табады	1
		Бөлшектің мәнін табады	1
Тіктөртбұрыштың ауданы формуласын: $S=ab$ біледі, қолданады	3	Тіктөртбұрыштың ауданы формуласын: $S=ab$ белгілейді	1
Үш таңбалы сандарды жазбаша қосу және азайту алгоритмдерін орындайды, салыстырады	4	1.өрнектің мәнін табады, салыстырады	1
		2.өрнектің мәнін табады, салыстырады	1
		3.өрнектің мәнін табады, салыстырады	1
		4.өрнектің мәнін табады, салыстырады	1
		5 өрнектің мәнін табады, салыстырады	1
Барлығы			10

«Үлес» бөлімі бойынша жиынтық бағалаудың нәтижесіне қатысты ата-аналарға ақпарат ұсынуға арналған рубрика Білім алушының аты-жөні: _____

Бағалау критерийі	Тапсырма №	Оқу жетістіктерінің деңгейі		
		Төмен	Орта	Жоғары
Бөлімдері бірдей жай бөлшектерді жазады және салыстырады	1	Бөлімдері бірдей жай бөлшектерді жазуда және салыстыруда қиналады. <input type="checkbox"/>	Бөлімдері бірдей жай бөлшектерді жазуда/ салыстыруда қателеседі. <input type="checkbox"/>	Бөлімдері бірдей жай бөлшектерді жазады және салыстырады. <input type="checkbox"/>
Санның үлесін және үлесі бойынша санды анықтайды	2	Санның үлесін және үлесі бойынша санды анықтауда қиналады. <input type="checkbox"/>	Санның үлесін/ үлесі бойынша санды анықтауда қателеседі. <input type="checkbox"/>	Санның үлесін және үлесі бойынша санды дұрыс анықтайды. <input type="checkbox"/>
Санның/шаманың үлесін табуға берілген есептерді шығарады	3	Санның үлесін табуға берілген есептерді шығаруда қиналады. <input type="checkbox"/>	Есептің қысқаша шартын құруда/есептің шартына сәйкес өрнек жазуда/ өрнектің мәнін есептеуде қателіктер жібереді. <input type="checkbox"/>	Санның үлесін табуға берілген есептерді шығарады. <input type="checkbox"/>

