

**2022-2023 оқу жылында II тоқсан бойынша жиынтық бағалау өткізудің жоспары**

Пән: Қазақстан тарихы

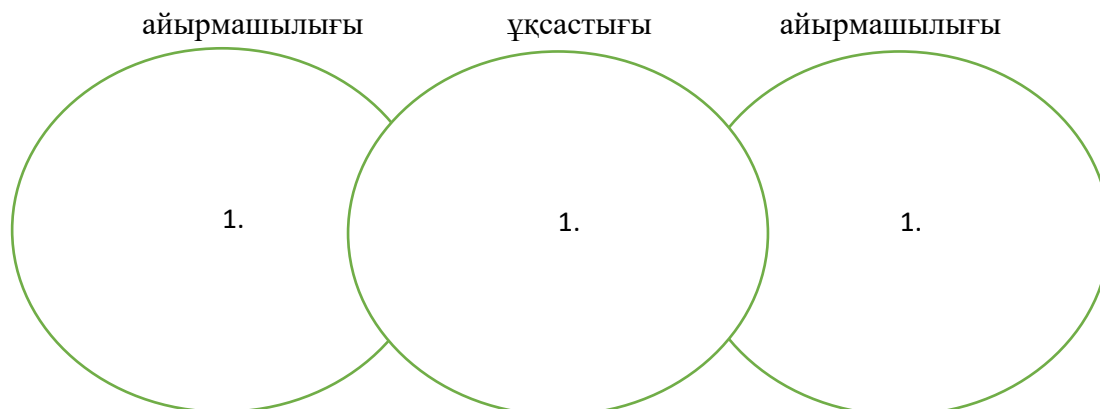
Сынып: 6 А

	Сынып	Бөлім бойынша жиынтық бағалаудың тақырыптары	Өткізілетін күні	Бағалауды өткізу түрі. БЖБ мак.баллы	Жиынтық бағалау рәсімдерінің орындалу ұзақтығы	Мерзімі		Ескерту
						құрастыру	сараптама	
II тоқсан	6 а	БЖБ №1 X-XIII ғасырдың басындағы Қазақстан	12.12.2022 ж	3 тапсырма түрінде 11 балл	20 мин	2.12.2022ж	7.12.2022ж	
		ТЖБ №2 X-XIII ғасырдың басындағы Қазақстан	26.12.2022ж	5 тапсырма 25 балл	40 мин	19.12.2022ж	23.12.2022ж	

**БЖБ 2. «X ғасыр – XIII ғасырдың басындағы Қазақстан» бөлімі бойынша жиынтық бағалау**

<b>Тақырып</b>	<ol style="list-style-type: none"> <li>1. X ғасыр - XIII ғасырдың басындағы Қазақстан территориясындағы саяси процестер.</li> <li>2. Орта ғасырлық Қазақстанның экономикалық және мәдени дамуына Ұлы Жібек жолының ықпалы.</li> <li>3. Түріктердің материалдық және рухани мәдениеті</li> </ol>
<b>Оқу мақсаты</b>	<p>6.3.1.3 X ғасыр - XIII ғасырдың басындағы мемлекеттердің даму ерекшеліктерін түсіндіріп, олардың ұқсастықтары мен айырмашылықтарын анықтау</p> <p>6.4.2.1 Ұлы Жібек жолының қала мәдениетінің дамуына әсерін анықтау</p> <p>6.2.2.4 Түркі кезеңіндегі қоғамды бейнелеуде М.Қашғари, Ж.Баласағұни және А.Яссауи еңбектерінің тарихи құндылығын түсіндіру</p>
<b>Бағалау критерийі</b>	<p><i>Білімалушы</i></p> <ol style="list-style-type: none"> <li>1. ҚараханжәнеҚыпшақмемлекеттерініңдаму ерекшеліктері мен ұқсастықтарынажыратады</li> <li>2. ҰлыЖібекжолыныңқаламәдениетініңдамуынаәсерінанықтайды</li> <li>3. Түркікезеңіндегіқоғамдыбейнелеудегұламалардың еңбектерініңтарихи құндылығын түсіндіреді</li> </ol>
<b>Ойлау дағдысының деңгейлері</b>	<p>Білу және түсіну</p> <p>Қолдану</p>
<b>Орындау уақыты</b>	20 минут

**1 тапсырма.** Венн диаграммасы арқылыҚарахан және Қыпшақ мемлекеттерінің даму айырмашылықтарымен ұқсастығын ажыратыңыз.



**2 тапсырма** А) X-XIII ғасырларда Ұлы жібек жолының бойында орналасқан ірі сауда орталықтары болған қалаларды көрсетіңіз



[https://cs6.pikabu.ru/post\\_img/2017/08/28/7/1503915295170523391.png](https://cs6.pikabu.ru/post_img/2017/08/28/7/1503915295170523391.png)

Ә) Қала мәдениетінің дамуына әсер еткен үш дәйек келтіріңіз.

1

2

3

**3 тапсырма**

а) XI-XII ғасырларға тән еңбектердің авторларына ықпалы

X-XIII ғасырларда ғұламалардың еңбектері	Ғұламалар
«Диуани-Хикмет»	
«Құтты білік»	
«Түрік тілінің сөздігі»	

ә) Түркі кезеңіндегі қоғамды бейнелеуде анықталған ғұламалардың еңбектерінің тарихи құндылығын жазыңыз.

1.....2.....

3.....

Бағалау критерийі	Тапсырма №	Дескриптор	Балл
		Білім алушы	
Қарахан және Қыпшақ мемлекеттерінің даму ерекшеліктері мен ұқсастықтарын ажыратады	1	Қыпшақ және Қарахан мемлекеттерінің басқарудағы 1 ұқсастығын ажыратады	1
		Мемлекетті нығайтуда Қарахан мемлекетінің 1 ерекшелігін ажыратады	1
		Мемлекетті нығайтуда Қыпшақ мемлекетінің 1 ерекшелігін ажыратады	1

Ұлы Жібек жолының қала мәдениетінің дамуына әсерін анықтайды	2	Ұлы жібек жолының бойында орналасқан ірі сауда орталықтары болған қалаларды көрсетеді	1
		Қала мәдениетінің дамуына әсер еткен 1-ші дәйеккелтіреді	1
		Қала мәдениетінің дамуына әсер еткен 2-шідәйек келтіреді.	1
		Қала мәдениетінің дамуына әсер еткен 3-ші дәйек келтіреді.	1
Түркі кезеңіндегі қоғамды бейнелеуде ғұламалардың еңбектерінің тарихи құндылығын түсіндіреді	3	XI-XII ғасырларда еңбектердің авторларын анықтайды	1
		Түркі кезеңіндегі қоғамды бейнелеуде 1-ші ғұламаның еңбегінің құндылығын сипатайды	1
		Түркі кезеңіндегі қоғамды бейнелеуде 2-ші ғұламаның еңбегінің құндылығын сипатайды	1
		Түркі кезеңіндегі қоғамды бейнелеуде 3-ші ғұламаның еңбегінің құндылығын сипатайды	1
<b>Жалпы балл</b>			<b>11 балл</b>

**6-сынып.«Қазақстан тарихы» пәнінен II тоқсанға арналған жиынтық бағалау тапсырмалары. ТЖБ**

**1. Ортағасырлық сәулет өнері ескерткіштерінің ерекшеліктерін ия/жоқ кестесінде көрсетіңіз.**

№	Мәлімет	Ия	Жоқ
1	1906 жылы Қарахан кесенесінің құлаған бөлігін қайта тұрғызуда Сайд Бакханов қаржыландырды		
2	Қарахан кесенесі қазіргі Тараз қаласының батыс шетінде орналасқан		
3	Жезқазған қаласынан 40 шақырымдай жерде Кеңгір өзенінің жағасында Қарахан кесенесі орналасқан.		
4	Бабаджа-Хатын кесенесінің текше тәрізді тік бұрышты, қызыл кірпіштен тұрғызылған ескерткіштің ауданы 6,8х6,8 м, биіктігі 5 м-ден астам; қабырғаларына қаланған кірпіштерінің көлемі 24х24х5 см. Қасбеті мен 2 қапталы бір-біріне ұқсас, мәнерлеп қаланған кірпіштен күн тәрізді өрнектер жасалған.		
5	Бабаджа-Хатын кесенесі Тараз қаласынан 18 км қашықтағы Айша бибі кесенесінің маңында орналасқан.		
6	Айша-Бибі кесенесі құрылысын 1953 жылы қазақстан ғылым академиясы зерттеген.		
7	Айша-Бибі кесенесіндегі бағаналарға парсы әрпінде жазуы бар белдеу жүргізілген		


[7]

**2.Төменде берілген ақпараттардың «ақиқат» немесе «жалған» екенін анықтаңыз.**

№	Ақпарат	Ақиқат	Жалған
1	«Жібек жолы» терминін неміс географы Фердинанд Рихтофен 1877 жылы енгізген.		
2	Қытайлық саяхатшы Чжан Цяньның “Батысқа” саяхаты нәтижесінде, ҰЖЖ б.з.б. 2 ғ-да ашылды.		
3	Ұлы Жібек жолының негізгі жолдары Сирия — Иран — Орта Азия — Оңт. Қазақстан — Талас даласы — Шу өңірі — Ыстықкөл маңайы — Шығыс Түркістан — Қытай болып тармақталды.		
4	Ұлы Жібек жолы 2016 жылы ЮНЕСКО - ның әлемдік мұра тізіміне енгізілді.		
5	Ұлы Жібек жолының қашықтығы 12 000 шақырымды құрады.		
6	VII ғасырдағы Қытай жол көрсеткіш кітапшасында "Ақ өзендегі қала" - Сауран көрсетілген.		

[6]

**3. Ұлы Жібек жолы орта ғасырлық мемлекеттердің мәдениет, шаруашылық, сауда қатынастарына тигізген факторларды анықтаңыз.**



<https://www.google.ru/url?sa=i&source=images&cd=&cad=rja&uact=8&ved=2ahU>

мәдениет	сауда	шаруашылық
1.	1.	1.
2.	2.	2.

[6]

4. Ұлы Жібек жолының халықаралық қарым-қатынасты дамытудағы тарихи маңызын сипаттаңыз.

--

[1]

5. Берілген тапсырмада, хронологияға қарай дамыған ортағасырлық мемлекеттерді анықтаңыз және ыдырауына негіз болған ортақ себептерін жазыңыз.


942 - 1212 ж.		
XI - XIII ғ. басы		
1128 - 1212 ж.		
XII - XIII ғ. басы		

[5]

Балл қою кестесі

Тапсырма №	Жауап	Балл	Қосымша ақпарат
---------------	-------	------	--------------------

<b>1</b>	<b>Мәлімет</b>	<b>Ия</b>	<b>Жоқ</b>	<b>7</b>	Бір дұрыс жауапқа 1 балл
	1906 жылы Қарахан кесенесінің құлаған бөлігін қайта тұрғызуда Сайд Бакханов қаржыландырды	+			
	Қарахан кесенесі қазіргі Тараз қаласының батыс шетінде орналасқан	+			
	Жезқазған қаласынан 40 шақырымдай жерде Кеңгір өзенінің жағасында Қарахан кесенесі орналасқан.		+		
	Бабаджа-Хатын кесенесінің текше тәрізді тік бұрышты, қызыл кірпіштен тұрғызылған ескерткіштің ауданы 6,8х6,8 м, биіктігі 5 м-ден астам; қабырғаларына қаланған кірпіштерінің көлемі 24х24х5 см. Қасбеті мен 2 қапталы бір-біріне ұқсас, мәнерлеп қаланған кірпіштен күн тәрізді өрнектер жасалған.	+			
	Бабаджа-Хатын кесенесі Тараз қаласынан 18 км қашықтағы Айша бибі кесенесінің маңында орналасқан.	+			
	Айша-Бибі кесенесі құрылысын 1953 жылы қазақстан ғылым академиясы зерттеген.	+			
	Айша-Бибі кесенесіндегі бағаналарға парсы әрпінде жазуы бар белдеу жүргізілген		+		
<b>2</b>	<b>Ақпарат</b>	<b>Ақиқат</b>	<b>Жалған</b>	<b>6</b>	Бір дұрыс жауапқа 1 балл
	«Жібек жолы» терминін неміс географы Фердинанд Рихтофен 1877 жылы енгізген.	+			
	Қытайлық саяхатшы Чжан Цяньның “Батысқа” саяхаты нәтижесінде, ҰЖЖ б.з.б. 2 ғ-да ашылды.	+			
	Ұлы Жібек жолының негізгі жолдары Сирия — Иран — Орта Азия — Оңт. Қазақстан — Талас даласы — Шу өңірі — Ыстықкөл маңайы — Шығыс Түркістан —Қытай болып тармақталды.	+			
	Ұлы Жібек жолы 2016 жылы ЮНЕСКО - ның әлемдік мұра тізіміне енгізілді.		+		

	<p>Ұлы Жібек жолының қашықтығы 12 000 шақырымды құрады.</p> <p>VII ғасырдағы Қытай жол көрсеткіш кітапшасында "Ақ өзендегі қала" - Сауран көрсетілген.</p>	+													
<b>3</b>	 <table border="1"> <thead> <tr> <th>мәдениет</th> <th>сауда</th> <th>шаруашылық</th> </tr> </thead> <tbody> <tr> <td>1. Шығыс пен Батыс мәдениетінің арасында байланыс орнады. 2. Сәулет өнері дамыды.</td> <td>1. Отырар, Сауран қалаларынан қазба жұмыстары кезінде мыс теңгелер табылды. 2. Ірі сауда орталықтары ашылып, әртүрлі тауарлар тасымалданды.</td> <td>1. Азық және көлік малын қамтамасыз етті. 2. Жылқы саудасы дамыды</td> </tr> </tbody> </table>	мәдениет	сауда	шаруашылық	1. Шығыс пен Батыс мәдениетінің арасында байланыс орнады. 2. Сәулет өнері дамыды.	1. Отырар, Сауран қалаларынан қазба жұмыстары кезінде мыс теңгелер табылды. 2. Ірі сауда орталықтары ашылып, әртүрлі тауарлар тасымалданды.	1. Азық және көлік малын қамтамасыз етті. 2. Жылқы саудасы дамыды			<b>6</b>	<p>Бір дұрыс жауапқа 1 балл</p> <p>Мазмұнына сай жауап басқа фразалармен жазылса қабылданады</p>				
мәдениет	сауда	шаруашылық													
1. Шығыс пен Батыс мәдениетінің арасында байланыс орнады. 2. Сәулет өнері дамыды.	1. Отырар, Сауран қалаларынан қазба жұмыстары кезінде мыс теңгелер табылды. 2. Ірі сауда орталықтары ашылып, әртүрлі тауарлар тасымалданды.	1. Азық және көлік малын қамтамасыз етті. 2. Жылқы саудасы дамыды													
<b>4</b>	Халықтар мен мәдениеттерді жақындастырып, өзара байытуында болды				<b>1</b>	<p>Бір дұрыс жауапқа 1 балл</p> <p>Мазмұнына сай жауап басқа фразалармен жазылса қабылданады</p>									
<b>5</b>	<table border="1"> <tr> <td>942 - 1212 ж.</td> <td>Қарахан мемлекеті</td> <td rowspan="4">X - XIII ғасырдың басындағы Қазақстан аумағында өмір сүрген мемлекеттер</td> </tr> <tr> <td>XI - XIII ғ. басы</td> <td>Қыпшақ хандығы</td> </tr> <tr> <td>1128 - 1212 ж.</td> <td>Қарақытай мемлекеті</td> </tr> <tr> <td>XII - XIII ғ. басы</td> <td>Наймандар, керейіттер, жалайырлар мемлекеті</td> </tr> </table>	942 - 1212 ж.	Қарахан мемлекеті	X - XIII ғасырдың басындағы Қазақстан аумағында өмір сүрген мемлекеттер	XI - XIII ғ. басы	Қыпшақ хандығы	1128 - 1212 ж.	Қарақытай мемлекеті	XII - XIII ғ. басы	Наймандар, керейіттер, жалайырлар мемлекеті				<b>5</b>	<p>Бір дұрыс жауапқа 1 балл</p> <p>Мазмұнына сай жауап басқа фразалармен жазылса қабылданады</p>
942 - 1212 ж.	Қарахан мемлекеті	X - XIII ғасырдың басындағы Қазақстан аумағында өмір сүрген мемлекеттер													
XI - XIII ғ. басы	Қыпшақ хандығы														
1128 - 1212 ж.	Қарақытай мемлекеті														
XII - XIII ғ. басы	Наймандар, керейіттер, жалайырлар мемлекеті														
<b>Жалпы балл</b>					<b>25</b>										



## «Turan mektebi»

**Жиынтық бағалау жүргізу қорытындылары бойынша талдау туралы мәліметтер**

**II тоқсан**

**Қазақстан тарихы пәні бойынша**

**Сынып: 6 а**

**Оқушылар саны: 23**

**Педагог: Еримбетов Т**

**Мақсаты:** Жиынтық бағалау жүргізу қорытындылары бойынша талдау жүргізу

БЖБ және ТЖБ нәтижелерін талдау

Пән	Орындаған оқушы	Максбалл	ЖБ балдарыныңпайыздықмазмұны				Сапа %	Үлгерім %
			төмен	орта	жақсы	жоғары		
			0-39%	40-64%	65%-84%	85-100%		
<b>Оқушыларсаны :</b>								
БЖБ 1	24	<b>11</b>	0-1 балл <b>0</b>	2-3 балл <b>4</b>	4-5 балл <b>8</b>	6-7 балл <b>12</b>	83%	100%
ТЖБ	24	<b>25</b>	0-5 балл <b>0</b>	6-8 балл <b>5</b>	9-14 балл <b>10</b>	15-20 балл <b>9</b>	79%	100%

	Қол жеткізілген мақсаттар	Қиындық тудырған мақсаттар
БЖБ 1	Бөлім бойынша берілген анықтамалық сұрақтарға нақты жауап берілген.	Картамен жұмыс жасау барысында қателіктер жіберген
ТЖБ	Балалардың бөлім бойынша берілген тапсырманы толық орындаған	Оқиғаның түйінін шығаруда қиындық тудырған

1. БЖБ және ТЖБ нәтижелерін талдау білім алушылардың келесі білім деңгейін көрсетті: Жоғары (В): 85-100%, жақсы (С): 65-84%, орта (D): 40-64%, төмен (Н): 0-39%,

Жоғары (В) 85-100%	Жақсы (С) 65-84%	Орта (С) 40-64%	Төмен (Н) 0-39%
		Туленди Е	

**2. Тапсырмаларды орындау барысында білім алушыларға туындаған қиындықтар тізбесі:**

- картамен жұмыс жасау қабілетінің төмендігі
- есте сақтау қабілеттерінің төмендігі (кейбір білім алушыларда)

**3. Тапсырмаларды орындау барысында білім алушыларға аталған қиындықтардың себептері:**

- Балалардың тіл байлықтарының аздығы;
- Ата-ана тарапынан қадағалаудың тапшылығы (кейбір білім алушыларда)

**4. Жоспарланған түзету жұмысы:**

- білім алушылармен қосымша жұмыс жасау
- Қазақстан тарихы пәнін тереңдетіп оқыту

**Қорытынды.**

Білім алушылар алған білімдерін көрсете білді.Берілген оқу мақсаттарына қол жеткізді.

Білім сапасы 50%, үлгерім 100 % құрайды

**Пән мұғалімі: Еримбетов Т**